


















Nombre _____ Fecha _____

	3	0	4	0	2	1	2	1
4								
0								
2								
2								
1								
0								
3								
1								

Las personas que viven en esta urbanización han decidido proteger sus casas con perros. Como verás, ya hay uno en la urbanización. Tu misión es situar el resto de los perros, teniendo en cuenta estas indicaciones:

1. Los números de la parte superior indican cuántos perros tiene que haber en cada columna. Los números de la izquierda indican cuántos perros tiene que haber en cada fila.
2. Cada perro se sitúa en la casilla que se encuentra encima, al lado o debajo de la casa que guarda.
3. No hay perros en las zonas de agua.
4. Los perros no pueden estar en contacto, ni siquiera en diagonal.

Nombre _____ Fecha _____

		☾			
★					☀
	3		☀	8	
	♃			♃	
		★		8	
☀				0	☾
	8		♃	9	
	☾			6	

Numerograma

Sitúa en el lugar correspondiente los siguientes números. Para ayudarte, ya hemos incluido algunos en su lugar.

- 23 136 482 7820
- 25 143 648 ~~8096~~
- 32 278 828 8765
- 42 289 922 8902
- 60 309 966
- 69 383
- 83 428
- 92

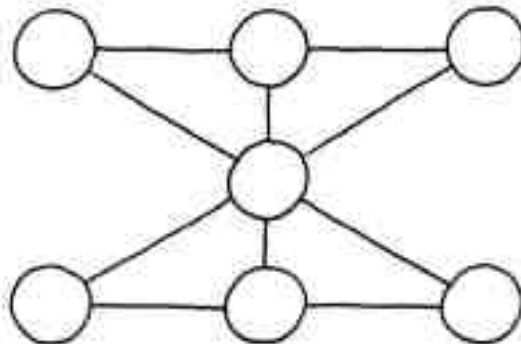
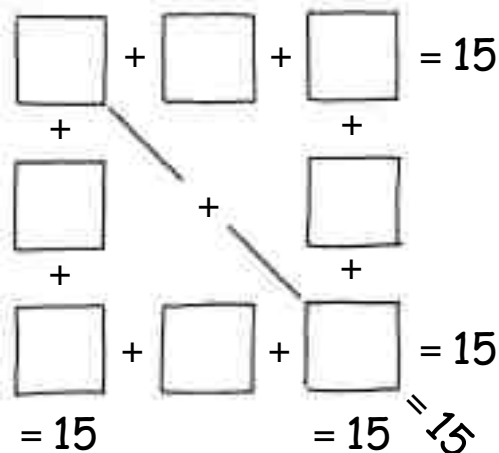


Figura mágica

Coloca en cada casilla un número del 1 al 7, de forma que las rectas sumen siempre 12. Sólo puedes utilizar cada número una vez.



Siempre igual a 15

Coloca en cada cuadro un número del 1 al 8, de forma que las operaciones indicadas sumen siempre 15. Sólo puedes utilizar cada número una vez.

1 2 + 3 4 5 6 7 - 8 9 = 100

Operación inacabada

Sitúa entre los números los signos que faltan (+, -, ×, :) para que el resultado sea 100.