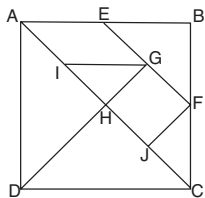


Nom:

Curs:



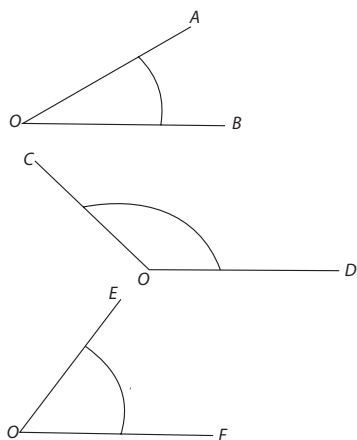
Representa els segments següents:
 $AB = 2 \text{ cm}$; $CD = 4 \text{ cm}$; $EF = 6 \text{ cm}$;
 $GH = 8 \text{ cm}$

Representa les operacions següents amb segments:
 $AB + CD$; $AB + EF$; $GH - AB$; $GH - EF$



Amb el transportador d'angles, mesura els angles representats.


Amb el transportador d'angles, traça els angles següents: 23° , 35° , 46° , 157° .



Nom:**Curs:**

Dibuixa el puzle següent en el requadre de sota. Per fer-ho:

1. Amb l'escaire i el cartabó, traça paral·leles verticals i horitzontals amb 15 mm de separació per formar la quadrícula base.
2. Representa el perfil de les 6 peces sobre la quadrícula, utilitzant també l'escaire i el cartabó.
3. Acoloreix-ho i retalla les peces.
4. Ara desordena-les i, sense mirar la solució, intenta muntar els puzles.



90 mm

75 mm

