


Nombre \_\_\_\_\_ Fecha \_\_\_\_\_























© 2005 Santillana Educación, S. L.










**¿Cuánto pesan Carlota, Quique y su perro Sultán? Observa los dibujos y calcula el peso de cada uno de ellos.**

- Sultán pesa:  $20 + \underline{\hspace{2cm}} = \underline{\hspace{2cm}}$  kg
- Carlota pesa:  $\underline{\hspace{2cm}}$  kg
- Quique pesa:  $\underline{\hspace{2cm}}$  kg

Nombre \_\_\_\_\_ Fecha \_\_\_\_\_

					=14
					=14
					=21
					=23
 <b>6</b>	 <b>21</b>	 <b>8</b>	 <b>25</b>	 <b>12</b>	

 =  + 

								
=	=	=	=	=	=	=	=	=

**Cada uno de los animales que aparecen en el dibujo representa un número que va del 1 al 9.**

Averigua el valor de cada animal, sabiendo que la suma de cada fila y de cada columna tiene que dar exactamente el número que está junto a ellas. Utiliza el cuadro de abajo para poner los resultados.

Un consejo: para que te sea más fácil comienza por una fila o una columna en la que haya sólo un tipo de animal.


Nombre \_\_\_\_\_ Fecha \_\_\_\_\_



**¿Dónde viven? Escribe el nombre de cada niño debajo de su casa.**

- La casa de José está entre la de Carlota y la de María.
- Las casas más altas son la de Carlota y la de José.
- La casa de Antonio está entre la de Carlota y la de Ramón.

Nombre \_\_\_\_\_ Fecha \_\_\_\_\_



**¿Cómo se llaman? Escribe el nombre de cada niña en los recuadros correspondientes.**

- Victoria, Elena y Paola tienen el bolso en la mano izquierda.
- Rita y Raquel tienen el bolso en la mano derecha.
- Isabel y Paola no tienen a nadie a su izquierda.
- Isabel, Victoria y Raquel están de espaldas.

Nombre \_\_\_\_\_ Fecha \_\_\_\_\_




**Palabras clave**

- éxito = ▽⊕⊙⊞∅
- madre = △⊕⊞×▽
- lunes = ⊞∅▽▽△
- junco = ⊞∅▽⊞∅
- vía = □⊙⊕



¿Qué le está diciendo Pepe a su amiga? Observa las palabras clave, sustituye cada símbolo por una de las letras que forman cada palabra clave y tendrás el código secreto para descifrar lo que dice Pepe.

Nombre \_\_\_\_\_ Fecha \_\_\_\_\_



Tania, Paco y Colás rompieron un cristal del despacho del director. Para saber quién fue, el director les formuló a cada uno de ellos la misma pregunta. Las respuestas fueron:

**Paco:** *Colás ha roto el cristal.*

**Colás:** *Paco no ha sido.*

**Tania:** *¡He sido yo!*

Aunque te parezca mentira, el director encontró al culpable. Y es que en este tipo de situaciones él sabía que Colás siempre dice la verdad, Tania siempre miente y Paco a veces miente y a veces no.

¿Sabes quién rompió el cristal? Escribe su nombre y explica por qué.