


Edat Moderna

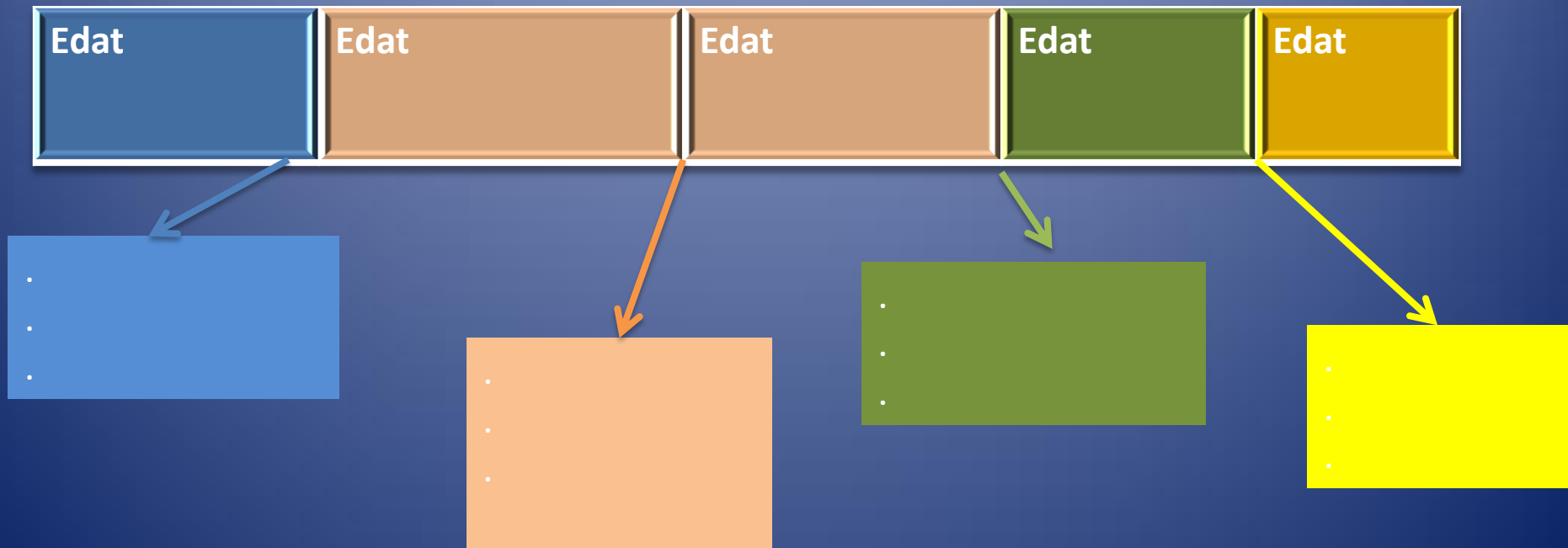


Lluís XIV

Activitats finals

D'entrada, ens situem.....

Observa aquesta taula a color i transforma-la en un fris cronològic: situa les etapes més importants de la Història i els fets històrics i dates que marquen, segons els historiadors el canvi d'etapa





2 punts

Observa les següents imatges...

Algunes són pròpies de l'Edat Mitjana i altres de l'Edat Moderna. Especifica quines són de cada època de manera raonada, i redacta un text curt en que especifiquis les característiques més importants de 'Edat Moderna'

4 punts



Ara observeu aquest mapa i respongueu:

1. Tipus de mapa
2. Espai geogràfic
3. Tema
4. Causes
5. Conseqüències

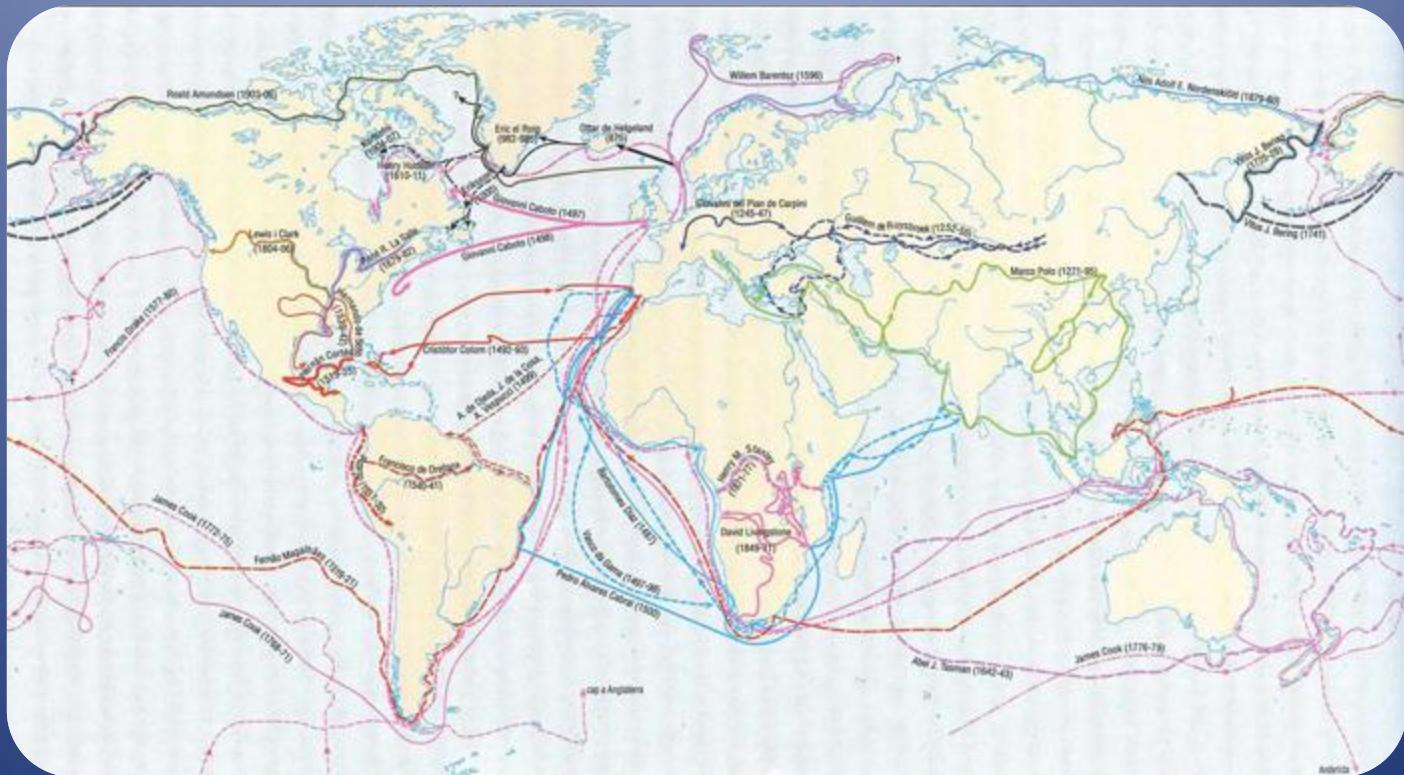
4 punts



Anem més enllà de la imatge.....

Especifiqueu de manera esquemàtica causes i conseqüències dels descobriments geogràfics.

4 punts



A propòsit del absolutisme.....

Especifiqueu característiques d'aquest sistema de govern de manera que el diferencieu del feudalisme i del pactisme.

4 punts

A Europa tots els estats eren absoluts? 2 punts



Per què va sorgir l'absolutisme? 2 punts

Quines *eines* tenia a l'abast el rei absolut per governar? Respon de manera raonada. 4 punts



Reforma i contrareforma

4 punts

Observeu aquests dos retrats i les dues paraules que tenim com a títol de la diapositiva...

Redacteu un petit text a partir d'elles...

Què us suggereixen?



El papa Alejandro VI



Martí Luter

Mireu aquesta imatge....


Qui eren?

Durant el seu regnat, quina era la situació política de la Península Ibèrica?

Tots els regnes eren governats iguals?

Durant el seu regnat com era coneguda en l'exterior la principal monarquia del territori?

8 punts



Ferran d'Aragó i Isabel de Castella

Aquí teniu una imatge de Felipe IV, rei de Castella però també de la corona de Catalunya i Aragó i a sota una imatge que representa *la guerra dels segadors*.....



Ambdues imatges reflecteixen els conflictes entre el rei i Catalunya. Podries explicar breument aquest conflicte?

4 punts

Observa, són Felip V i una imatge de *l'11 de setembre de 1714*

Redacta un petit text a partir de les següents imatges. Són conceptes claus: guerra de successió, enfrontament entre les institucions catalanes i la monarquia absoluta, 11 de setembre, decret de Nova Planta, naixement de l'Estat espanyol, final del pactisme



10 punts



Parlem d'art, i concretament d'estils associats a les diferents etapes de la Història que hem analitzat al llarg del curs

Cerqueu una imatge representativa de cada estil (romànic, gòtic, renaixement i barroc) i especifiqueu les diferències bàsiques.

8 punts