


Actividades sobre números y contar

1.

Cuenta los delfines. Pulsa cada delfín para llevar la cuenta según avanzas.



¿Cuántos delfines hay?



2.

Cuenta las ballenas. Pulsa cada ballena para llevar la cuenta según avanzas.




¿Cuántas ballenas hay?




3.

¿Cuántos coches hay?



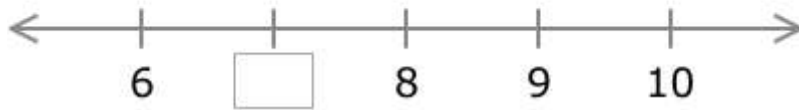
4.

¿Cuántos rectángulos hay?



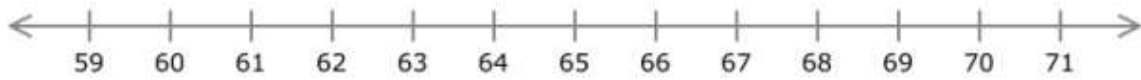
5.

Escribe el número que falta.



6.

¿Qué número aparece justo después del 61?



7.

Selecciona el número que sea 1 más que 21.

1	2	3	4	5	6	7	8	9	10
11	12	13	14	15	16	17	18	19	20
21	22	23	24	25	26	27	28	29	30
31	32	33	34	35	36	37	38	39	40
41	42	43	44	45	46	47	48	49	50
51	52	53	54	55	56	57	58	59	60
61	62	63	64	65	66	67	68	69	70
71	72	73	74	75	76	77	78	79	80
81	82	83	84	85	86	87	88	89	90
91	92	93	94	95	96	97	98	99	100

8.

Selecciona el número que sea 10 más que 83.

1	2	3	4	5	6	7	8	9	10
11	12	13	14	15	16	17	18	19	20
21	22	23	24	25	26	27	28	29	30
31	32	33	34	35	36	37	38	39	40
41	42	43	44	45	46	47	48	49	50
51	52	53	54	55	56	57	58	59	60
61	62	63	64	65	66	67	68	69	70
71	72	73	74	75	76	77	78	79	80
81	82	83	84	85	86	87	88	89	90
91	92	93	94	95	96	97	98	99	100

9.

Cuenta **hacia delante** desde el 3.

3, , , ,

10.

Cuenta **hacia atrás** desde el 34.

34, , , , ,