

1) Llegueix la següent classificació dels béns econòmics i posa un exemple de cadascun:

CLASSIFICACIÓ DELS BÉNS ECONÒMICS	
BÉNS DE CONSUM: Satisfan directament una necessitat de les famílies o dels individus (consumidors)	BÉNS DE PRODUCCIÓ: Satisfan indirectament les necessitats dels consumidors, ja que són utilitzats per les empreses per produir altres béns
BÉNS D'UN SOL ÚS; Són destruïts en consumir-los	BÉNS D'ÚS DURADOR: Es poden utilitzar al llarg d'un cert temps
BÉNS COMPLEMENTARIS: Es consumeixen amb altres béns	BÉNS SUBSTITUTIU: Aquells el consum dels quals fa disminuir el d'altres
BÉNS D'IMPORTACIÓ: Provenen de l'exterior	BÉNS D'EXPORTACIÓ: Es produeixen per ser venuts a l'exterior
BÉNS DE PROPIETAT PÚBLICA: El seu titular és l'Estat	BÉNS DE PROPIETAT PRIVADA: Són propietat de qualsevol particular, persona o empresa

2) En funció de les següents dades representa la corba de demanda del producte X:

Preu	Quantitat demandada
500	90
400	100
300	120
200	150
100	200

3) Tria un bé o un servei i explica els diversos factors que poden influir en la seva demanda

4) Com influeix la publicitat en la demanda? Posa'n alguns exemples

5) Elabora una corba de demanda d'un bé amb les dades següents:

PREU	QUANTITAT
2	12
4	10
6	8
8	6

- 6) Elabora la corba de demanda d'accions de telefònica tenint en compte les dades següents:

PREU DE L'ACCIÓ	NÚMERO D'ACCIONS DEMANDADES
3000	1000
4000	800
5000	600
6000	400
7000	200
8000	50

- 7) Suposem que inicialment, al preu unitari de 6 euros, es venen 50.000 discos. Si el preu augmenta 1 euro es venen 46.000 unitats. ¿La demanda és elàstica o inelàstica? ¿quin és el seu valor?
- 8) Si en el cas anterior, un cop puja el preu es venen 42.000 unitats, ¿com serà la demanda? ¿i el seu valor?
- 9) D'acord amb la informació dels dos exercicis anteriors, comprova el següent:
- Si el número de discos venuts a la setmana és de 46.000 unitats els ingressos de l'empresa augmenten respecte a la situació inicial
 - Si es venen 42.000 unitats els ingressos es redueixen
- 10) Suposem que es venen 20.000 unitats d'un bé que té un preu de 3 euros. Si el preu augmenta 0,5 euros i la quantitat venuda es redueix a 12.000 unitats, ¿quin serà el valor de l'elasticitat de la demanda?
- 11) Suposem que la situació de partida és la mateixa que la de l'exercici anterior. Calcula l'elasticitat de la demanda si la quantitat venuda, un cop puja el preu, és de 10.700 unitats.

- 12) Un comerciant ven:

50 llaunes de tonyina a 0,80 euros c/u i 10 caixes de fruites a 8 euros l'unitat. Quan baixa el preu de la tonyina a 0,75 ven 52 llaunes i quan puja a 0,9 ven 54 unitats

Quan baixa el preu de la caixa de fruites a 7 euros ven 13 caixes i quan al puja a 9 ven 8 caixes

Calcula l'elasticitat de la demanda i interpreta els resultats

- 13) Justifica per què la demanda de la gasolina és inelàstica a curt termini

- 14) Justifica per què un augment en el preu de la gasolina determinarà, probablement, un increment de la despesa en gasolina dels propietaris de cotxes i un augment dels ingressos obtinguts per les gasolineres.

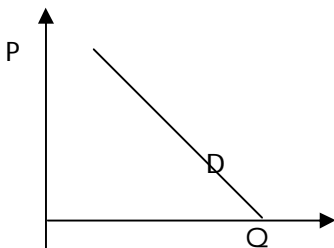
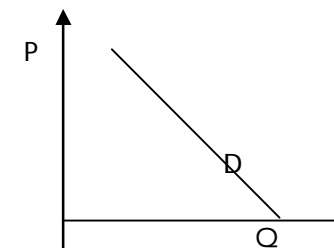
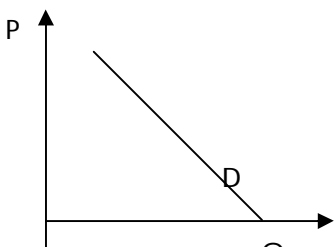
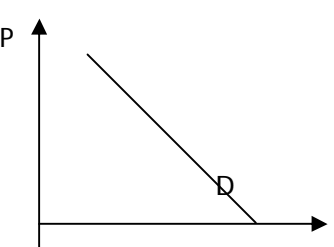
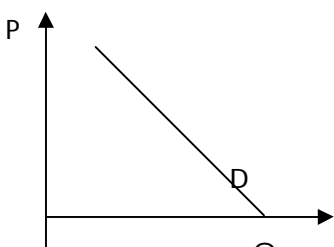
- 15) ¿Què passarà amb l'ingrés total obtingut amb la venda d'un bé el preu del qual es redueix un 15% si l'elasticitat de la demanda és 4?

- 16) Si el preu d'un bé augmenta un 20% i la seva elasticitat és de 3, ¿què passarà amb l'ingrés total?

- 17) ¿Com es veurà afectat l'ingrés total obtingut per la venda d'un bé quan el preu es redueix en un 50% si la seva elasticitat és de 0,5?

- 18) ¿Què passarà amb l'ingrés total que obté una empresa per la venda d'un bé que redueix el seu preu en un 10% si la seva elasticitat és de 0.

19) Representeu gràficament els canvis en la corba de demanda d'oli d'oliva provocats pels fets següents:

<p>1) La renda augmenta un 10 %.</p> 	<p>2) Baixa el preu de l'oli d'oliva.</p> 
<p>3) Als diaris i a la TV surten les conclusions d'un estudi científic que aconsella el consum d'oli d'oliva.</p> 	<p>4) Augmenta el preu de l'oli de girasol.</p> 
<p>5) Puja el preu de l'oli d'oliva.</p> 	

20) Digueu com afectaran al mercat de les agulles d'estendre roba de fusta els factors següents i feu una representació gràfica del mercat per a cada apartat.

- 1) Disminueix el preu de la fusta.
- 2) Disminueix el preu de les agulles d'estendre roba de plàstic.

- 3) Es preveu una nova pujada del tipus d'interès.
- 4) Augmenta el preu de les agulles d'estendre roba de fusta.
- 5) S'inventa una màquina que permet fabricar més agulles d'estendre roba de fusta en el mateix temps. A més a més, aquesta màquina aprofita més la fusta.
- 6) Augmenta la renda dels consumidors.

21) Representeu gràficament els canvis, si n'hi ha, del mercat de les novel·les de ciència ficció provocats pels factors següents:

- 1) Un actor admiradíssim per tothom diu que el que més li agrada del món és llegir novel·les de ciència ficció.
- 2) El preu del paper es dispara.
- 3) Els editors de novel·les de ciència ficció preveuen una baixada de les vendes de novel·les de ciència ficció en els propers anys.
- 4) Baixa el preu de les novel·les de ciència ficció.
- 5) Les noves impremtes es perfeccionen i permeten un estalvi molt important de tinta.
- 6) Es preveu una baixada dels tipus d'interès.
- 7) Baixa el preu de la tinta que utilitzen les impremtes.
- 8) Baixen els preus de les novel·les d'aventures.
- 9) Un incendi crema l'editorial més gran que edita novel·les de ciència ficció.
- 10) Augmenten els tipus d'interès.
- 11) Aquest any la collita de tomàquets ha estat excel·lent.
- 12) L'economia del país comença a remuntar-se de la crisi.
- 13) Augmenten les preferències per la lectura degut al gran augment de l'escolarització i el nivell d'estudis del país.
- 14) Augmenta la renda dels consumidors.
- 15) La gran oferta de productes per a l'oci, principalment la televisió i l'internet, han fet que cada vegada es dediquin menys hores a la lectura.

22) Què vol dir la condició ceteris paribus?