



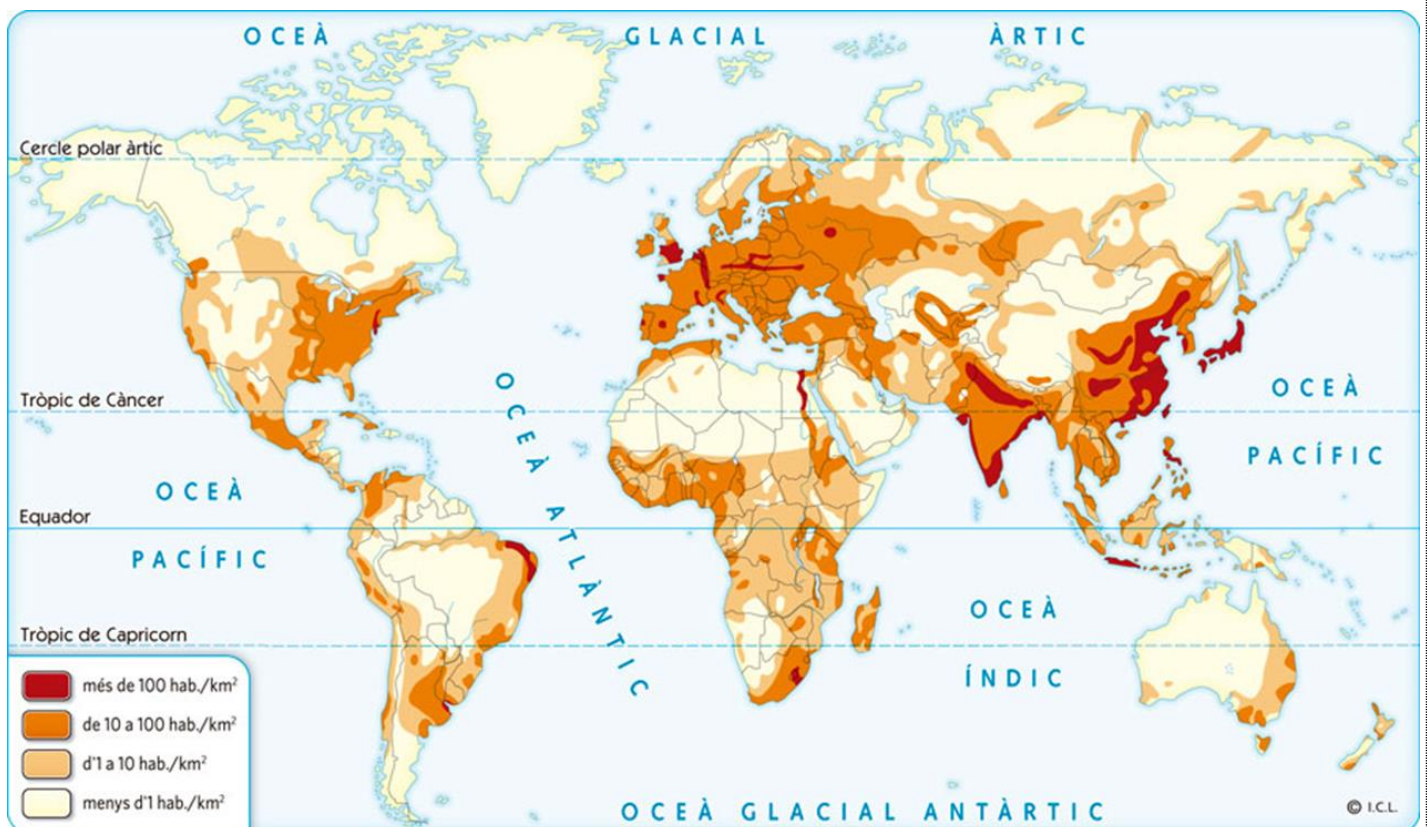
# **Demografia del món actual**

## **ACTIVITATS**

### **Unitat 6**

**Activitats extretes de la presentació “La població” de Salvador Vila Esteve**

1. Distribució de la població mundial . A partir del document, respon:
  - a) Classificació.
  - b) Tema.
  - c) Què és la densitat de població?
  - d) En quines zones del món hi ha densitats de població més altes? Per què?
  - e) En quines zones del món hi ha densitats de població baixes? Per què?



2. A partir de les taules dels llocs A i B, calcula per a cadascun i respon:
  - a) Densitat de població de cadascun.
  - b) Taxa de natalitat de cadascun.
  - c) Taxa de mortalitat de cadascun.
  - d) Taxa de mortalitat infantil de cadascun.
  - e) Taxa de fecunditat de cadascun.
  - f) Creixement natural o vegetatiu de cadascun.
  - g) Taxa de creixement natural o vegetatiu de cadascun.
  - h) Saldo migratori de cadascun.
  - i) Creixement real de cadascun.

- j) Taxa de creixement real de cadascun.
- k) El lloc A, és desenvolupat o subdesenvolupat? Dóna al menys tres raons de la teva resposta.
- l) El lloc B, és desenvolupat o subdesenvolupat? Dóna al menys tres raons de la teva resposta.

**A**

<u>Població</u>	100.000
<u>Superfície</u>	2.000 km <sup>2</sup>
<u>Nascuts</u>	3.000
<u>Morts</u>	2.000
<u>Morts menors d'un any</u>	300
<u>Dones 15-49 anys</u>	30.000
<u>Emigrants</u>	1.000
<u>Immigrants</u>	100

**B**

Població	46.468.102
Superfície	505.992 km <sup>2</sup>
Nascuts	420.290
Morts	422.568
Morts menors d'un any	1.139
Dones 15-49 anys	10.901.126
Emigrants	343.875
Immigrants	342.114

3. La dinàmica de la població. A partir del document, respon:
- a) Classificació.
  - b) Tema.
  - c) Què és el creixement natural de la població?
  - d) En quines zones del món creix més la població? Per què?
  - e) En quines zones del món descendeix el nombre d'habitants? En quines creix poc? Per què?

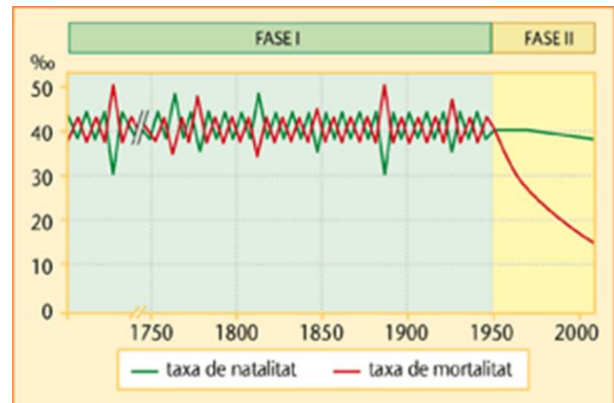
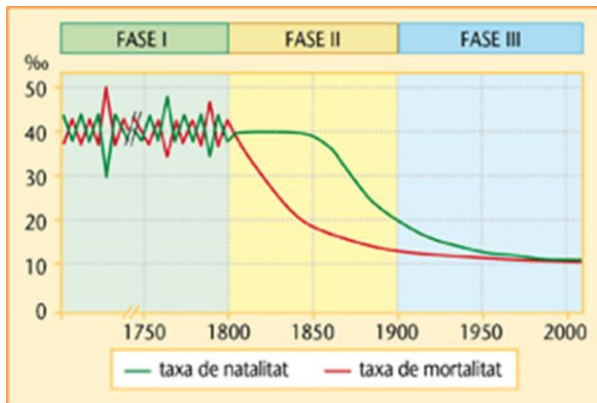




#### 4. L'evolució de la població mundial

A partir de les gràfiques de baix, respon:

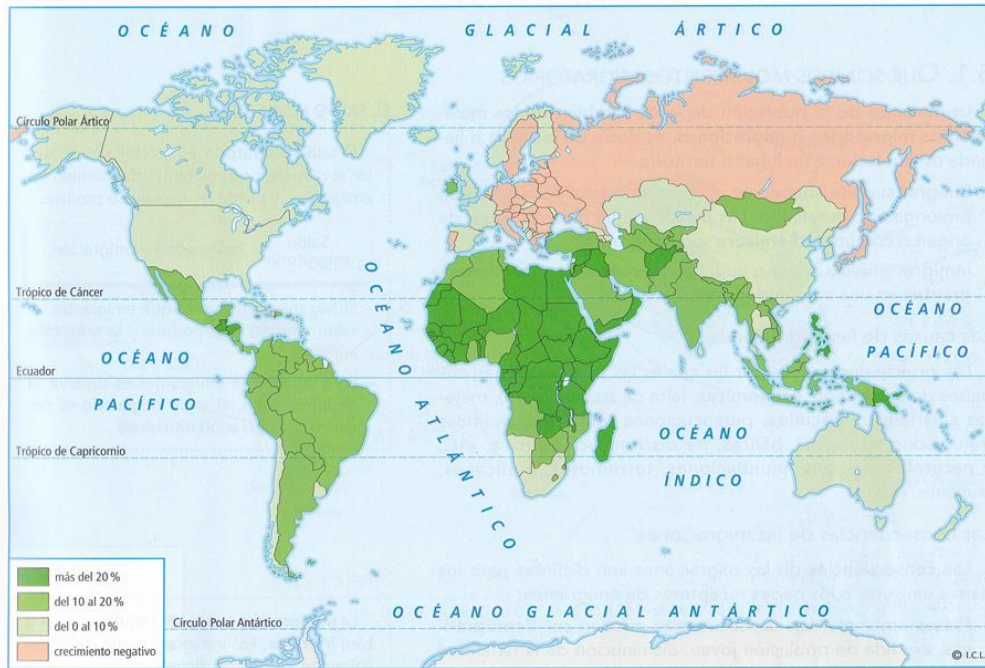
- Classificació (és igual per a les dues).
- Tema conjunt.
- Digues quantes fases trobem en la primera gràfica i explica què passa en cadascuna d'elles.
- Quina diferència hi ha entre en la segona gràfica i la primera? Per què?



#### 5. Els desequilibris demogràfics . A partir del mapa, respon:

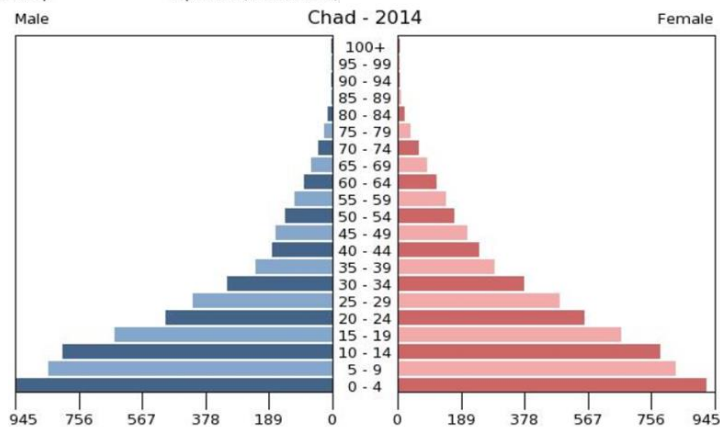
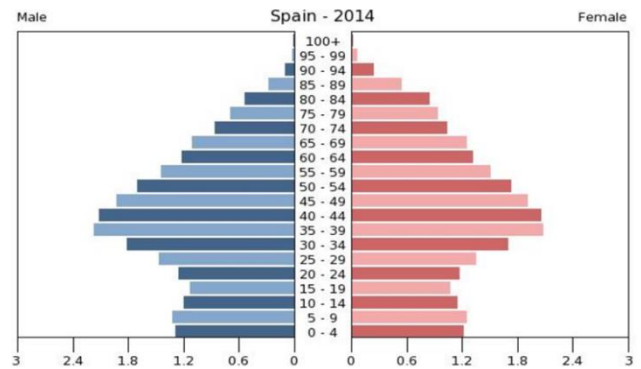
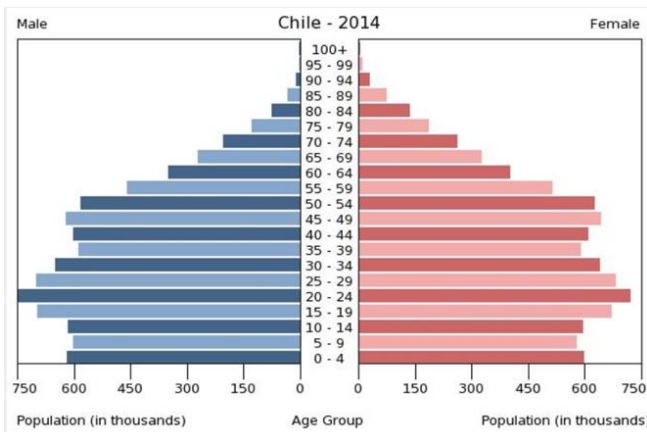
- Classificació.
- Tema.
- En quines zones del món hi ha un creixement vegetatiu major? Digues cinc països que tinguin una alta taxa de creixement vegetatiu.
- En quines zones del món hi ha un creixement vegetatiu baix o negatiu? Digues cinc països amb creixement vegetatiu negatiu.
- A què es deuen les diferències en el creixement vegetatiu que hem vist al mapa?
- Quines polítiques demogràfiques s'apliquen en els països desenvolupats? I en els pobres?

EL CRECIMIENTO VEGETATIVO DE LA POBLACIÓN EN EL MUNDO EN 2010



6. Estructura demogràfica de la població

Identifica a quin tipus de piràmide de població respon cadascuna, digues per què i explica-les:





9. La població espanyola. A partir del mapa, respon:

- a) Classificació.
- b) Tema.
- c) Quines zones tenen densitats més altes? Posa deu exemples de províncies.
- d) Quines zones tenen densitats més baixes? Posa deu exemples de províncies.
- e) Explica la resta de característiques de la població espanyola.



10. Activitat de síntesi. Completa al teu quadern el quadre següent:

	EUROPA	ESPANYA	CATALUNYA
<b>POBLACIÓ</b>			
<b>DENSITAT</b>			
<b>DISTRIBUCIÓ</b>			
<b>ESTRUCTURA</b>			
<b>NATALITAT</b>			
<b>MORTALITAT</b>			
<b>ESPERANÇA DE VIDA</b>			
<b>CREIXEMENT NATURAL</b>			

## 11. Activitat de síntesi. Vocabulari:

Població:

Demografia:

Densitat de població:

Natalitat:

Mortalitat:

Mortalitat infantil:

Esperança de vida:

Creixement natural o vegetatiu:

Creixement real:

Piràmide de població:

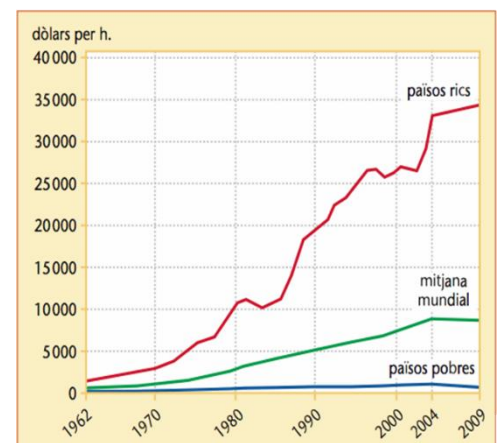
## 12. Els moviments migratoris

- Què és un emigrant? I un immigrant? Pot ser una persona emigrant i immigrant al mateix temps?
- Què és el saldo migratori? Com pot ser?
- Elabora un petit esquema de les diferents classificacions que podem fer de les migracions.

## 13. A partir del document de baix, respon:

- Tipus.
- Tema.
- Quines diferències hi ha entre l'evolució de la renda en els països rics i els pobres des del 1962? De quant és aquesta diferència en 2009? Com pot afectar això als moviments migratoris?
- Explica, en forma de redacció, les causes de les migracions.

FACTOR D'ATRACCIÓ:  
DESIGUALTAT EN LA RENDA NACIONAL BRUTA





14. Les migracions actuals. A partir del document de baix, respon:

- Tipus.
- Tema.
- Des de quines zones del món surt la majoria de l'emigració poc qualificada? Per què?
- Cap a quines zones del món va la majoria de l'emigració poc qualificada? Per què?
- Quins són els principals corrents de mà d'obra qualificada? Per què?
- A banda de la qualificació, quina diferència sol haver entre ser un emigrant qualificat i un poc qualificat?



15. Conseqüències de les migracions. Escolta la cançó Pueblo Blanco de Joan Manuel Serrat (la lletra la tens baix) i respon:

- Tipus de document, autor, data i disc a què pertany.
- Tema.
- Qui canta, teòricament, la cançó (narrador)? Com ho saps?
- Com és el poble? De què viuen? En quina part d'Espanya creus que pot estar? Per què?

- e) Amb què somien els joves del poble? Per què? I les persones majors? Per què?
- g) Què aconsella el narrador als joves del poble? Per què?
- h) Explica, redactant, les conseqüències que té l'emigració per als llocs d'on se'n va la gent.
- i) Explica, redactant, les conseqüències que té l'emigració per als llocs on arriben els immigrants.

## PUEBLO BLANCO

Autor: Joan Manuel Serrat.  
Disc: Mediterráneo (1971).

Colgado de un barranco  
duerme mi pueblo blanco  
bajo un cielo que, a fuerza  
de no ver nunca el mar,  
se olvidó de llorar.  
Por sus callejas de polvo y piedra  
por no pasar, ni pasó la guerra.  
Sólo el olvido...  
camina lento bordeando la  
cañada  
donde no crece una flor  
ni trashuma un pastor.  
El sacristán ha visto  
hacerse viejo al cura.

El cura ha visto al cabo  
y el cabo al sacristán.  
Y mi pueblo después  
vio morir a los tres...  
Y me pregunto por qué nacerá  
gente  
si nacer o morir es indiferente.  
De la siega a la siembra  
se vive en la taberna.  
Las comadres murmuran  
su historia en el umbral  
de sus casas de cal.  
Y las muchachas hacen bolillos  
buscando, ocultas tras los  
visillos,  
a ese hombre joven  
que, noche a noche, forjaron en  
su mente.

Fuerte pa' ser su señor.  
Tierno para el amor...  
Ellas sueñan con él,  
y él con irse muy lejos  
de su pueblo. Y los viejos  
sueñan morirse en paz,  
y morir por morir,  
quieren morirse al sol.  
La boca abierta al calor, como  
lagartos.  
Medio ocultos tras un sombrero  
de esparto.  
Escapad gente tierna,  
que esta tierra está enferma,  
y no esperes mañana  
lo que no te dio ayer,  
que no hay nada que hacer.  
Toma tu mula, tu hembra y tu

arreo.  
Sigue el camino del pueblo  
hebreo  
y busca otra luna.  
Tal vez mañana sonría la fortuna.  
Y si te toca llorar  
es mejor frente al mar.  
Si yo pudiera unirme  
a un vuelo de palomas,  
y atravesando lomas  
dejar mi pueblo atrás,  
juro por lo que fui  
que me iría de aquí...  
Pero los muertos están en  
cautiverio  
y no nos dejan salir del  
cementerio.

## 16. Les migracions interiors a Espanya i a Catalunya. A partir dels tres documents de baix, respon:

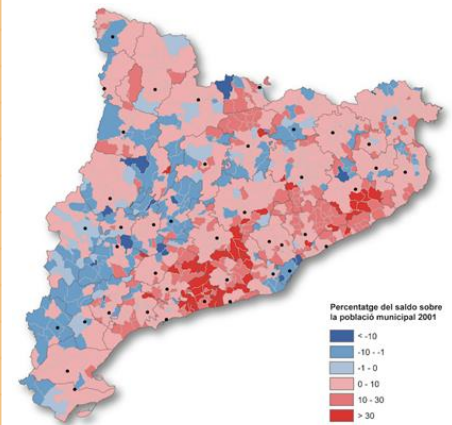
- a) Tipus de cada document.
- b) Tema conjunt als tres.
- c) Quines zones d'Espanya perden població entre 1960 i 1975? Quines zones guanyen població? Per què?
- d) Quines cinc regions espanyoles van perdre més població entre 1961 i 1970? Quanta cadascuna d'elles? Quines altres perden població?
- e) Quines quatre regions espanyoles van guanyar més població entre 1961 i 1970? Quanta cadascuna d'elles? Quines altres guanyen població?
- f) Quines zones de Catalunya van perdre població entre 1950 i 1991? Quines la van guanyar? Per què?
- g) Explica el que sàpigues sobre les migracions interiors a Espanya i a Catalunya.

MIGRACIONS INTERIORS A ESPANYA ELS ANYS 1960-1975



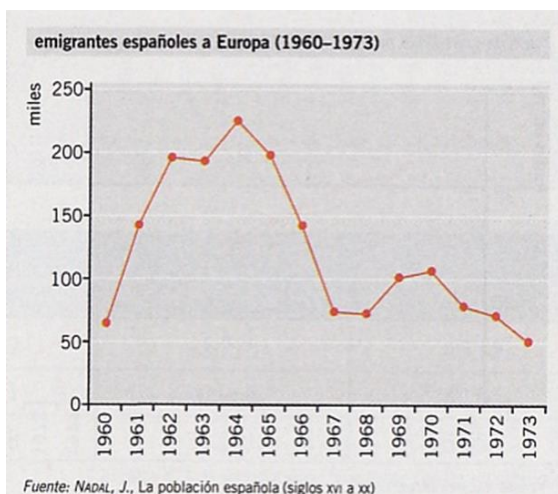
SALDOS MIGRATORIS ENTRE EL 1961 I EL 1970

Comunitats autònoms	Saldo (en milers)
Andalusia	-843,8
Aragó	-34,3
Astúries	-31,3
Canàries	19,4
Cantàbria	-14,5
Castella i Lleó	-466,4
Castella-La Manxa	-485,5
Catalunya	720,0
Comunitat de Madrid	686,6
Comunitat Valenciana	302,7
Extremadura	-378,2
Galícia	-229,2
Illes Balears	-73,7
La Rioja	-12,5
Navarra	18,5
País Basc	256,1
Regió de Múrcia	-101,6

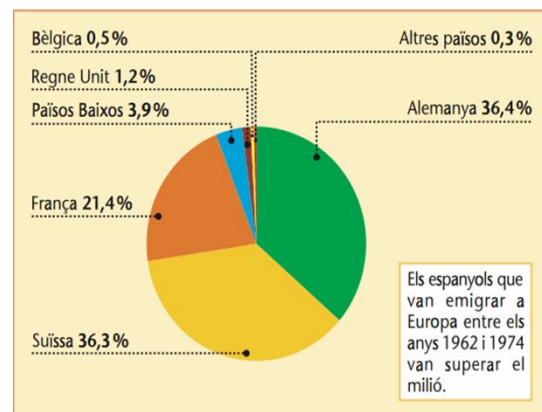


17. Les migracions exteriors a Espanya i Catalunya. A partir dels dos documents, respon:

- Tipus de cadascun i autor i llibre del primer.
- Tema conjunt.
- Quants espanyols van emigrar a Europa entre 1960 i 1973? En quins anys van emigrar més? Per què es va produir aquesta emigració?
- Cap a quins països es dirigien principalment els espanyols? Per què?
- Explica, en forma de redacció, el que sàpigues sobre l'emigració espanyola entre 1850 i 1975.



EMIGRACIÓ ESPANYOLA A EUROPA, 1962-1974. PRINCIPALS PAÏSOS DE DESTINACIÓ



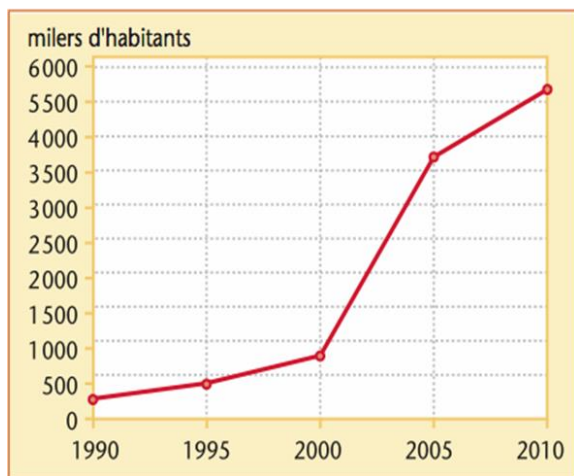
Els espanyols que van emigrar a Europa entre els anys 1962 i 1974 van superar el milió.



18. A partir dels dos documents, respon:

- a) Tipus de cada document.
- b) Tema conjunt.
- c) Explica l'evolució de la població estrangera a Espanya entre 1990 i 2010.
- d) Per què va arribar tanta població immigrant a Espanya en aquest període?
- e) De quins països venien més immigrants? Quina d'aquesta immigració era fonamentalment laboral (per a treballar) i quina residencial (per a viure)?
- g) Explica, en forma de redacció, tot el que sàpigues sobre la immigració estrangera a Espanya i a Catalunya entre 1990 i 2010.

**POBLACIÓ ESTRANGERA A ESPANYA**

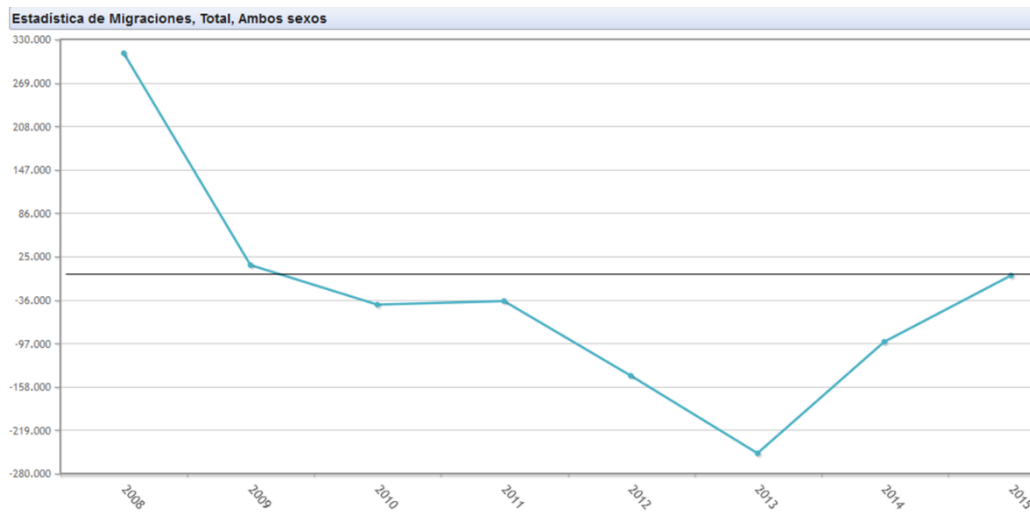


**Població estrangera a Espanya (2011)**

PAÍS D'ORIGEN	RESIDENTS
Romania	806.716
Marroc	648.458
Regne Unit	369.006
Equador	347.360
Colòmbia	272.856
Bolívia	192.671
Alemanya	178.413
Argentina	175.534
Bulgària	163.669
Xina	142.639
Perú	133.609
Portugal	123.202
Brasil	111.535
França	102.350

19. A partir del document de baix, respon:

- a) Tipus de cada document.
- b) Tema conjunt.
- c) Explica l'evolució del saldo migratori espanyol entre 2008 i 2015.
- d) Per què ha passat això en els últims anys?
- e) Qui són els que més emigren? Cap a on?





20. Activitat de síntesi. Vocabulari:

Migració:

Saldo migratori:

Refugiat:

Immigrant:

Emigrant:

Èxode rural:

Fuga de cervells: