



Sector terciari

ACTIVITATS

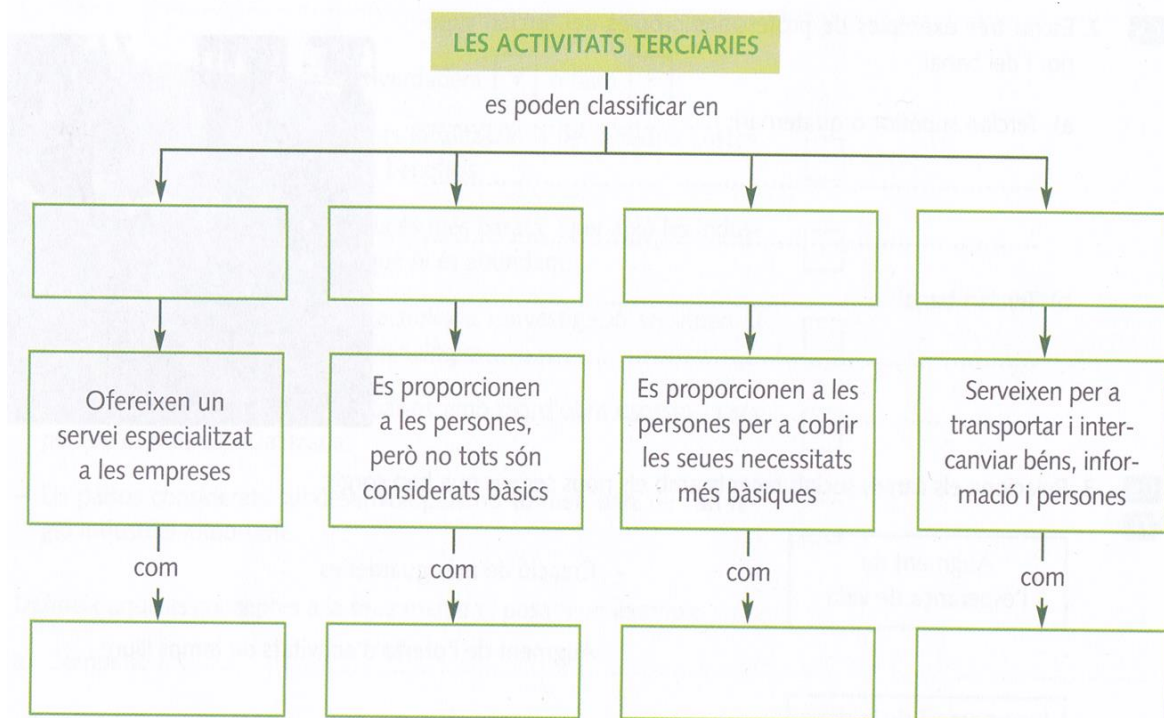
Unitat 9

Activitats extretes de la presentació "La població" de Salvador Vila Esteve

1. Què és el sector terciari? Quines activitats formen part d'ell?
2. Explica les diferències entre serveis públics i privats, posant exemples.
3. Digues quines de les següents professions corresponen al terciari banal, quines al terciari clàssic i quines al terciari superior o quaternari:

- | | |
|--|---|
| <ul style="list-style-type: none"> - Camioner: - Director d'una multinacional: - Venedor ambulat: - Comercial en una tenda: - Cirurgià: - Servei domèstic: - Camioner: - Músic: - "Gorrilla" (aparcacotxes il·legal): - Guia turístic: - Enginyer informàtic: - Mecànic de cotxes: | <ul style="list-style-type: none"> - Dissenyador de pàgines web: - Netejavidres als semàfors: - Creatiu publicitari: - Perruquer: - Catedràtic d'universitat: - Mestre d'Infantil: - Bomber: - Biogenetista: - Administratiu: - Netejabotes: - Arquitecte: - Prostitució: |
|--|---|

4. Completa el quadre:



5. A partir del document, respon:

- Classificació.
- Tema.
- Classifica els països de la taula segons el percentatge de població que es dedica al sector terciari.
- Segons la classificació anterior, quins països diries que són desenvolupats i quins no? Per què?
- Per què ha crescut tant el sector terciari?
- Fes un llistat amb les sis característiques més importants del sector terciari en l'actualitat.

POBLACIÓ ACTIVA PER SECTORS ECONÒMICS L'ANY 2010

països	sector primari (en %)	sector secundari (en %)	sector terciari (en %)
Alemanya	2,2	24,9	72,9
Egipte	31,7	22,1	46,2
Espanya	4,4	24,2	71,4
Estats Units	1,5	19,9	78,6
França	3,2	20,1	76,7
Iran	21,2	32,2	46,6
Israel	1,7	21,3	77,0
Mèxic	13,1	25,7	61,2
Noruega	2,8	20,0	77,2
Països Baixos	2,9	16,7	80,4
Pakistan	44,7	20,1	35,2
Rep. de Sud-àfrica	5,7	25,7	68,6
Rússia	8,6	28,9	62,5
Senegal	55,4	13,0	31,6
Turquia	24,7	25,3	50,0
Vietnam	51,9	21,5	26,6
Xina	3,5	44,5	52,0

6. A partir del text, respon:

- Quin tipus de text és? De quin llibre s'ha tret? Qui el va escriure? Quan?
- Tema.
- Des d'on s'opera la megafonia de l'aeroport de Tegel (Berlín, Alemanya) al vespre i per la nit? Per què? Explica, amb les teves paraules, què ha fet possible això.

Són les nou i deu. A l'aeroport berlinés de Tegel una veu rutinària i amable comunica als viatgers cansats que, finalment, poden embarcar amb destinació a Hamburg. La veu pertany a Angèlica B., asseguda davant del seu tauler electrònic en un lloc de Califòrnia.

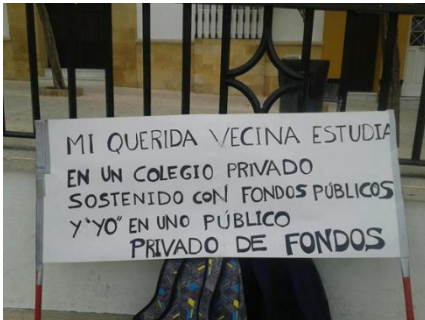
Després de les quatre de la vesprada, hora local, la megafonia de l'aeroport berlinés és operada des de Califòrnia, per uns motius tan senzills com intel·ligents. En primer lloc, allà no s'ha de pagar cap suplement per hores extres; en segon lloc, els costos salarials per a la mateixa activitat són molt més baixos que a Alemanya. Doncs bé, això és possible gràcies a la telecomunicació. Així se'n va en orris una premissa, que havia estat fins ara suposadament inderogable, del sistema de treball característic de les societats industrialitzades; d'ara endavant ja no hi ha la necessitat que els treballadors treballen junts en un lloc concret per produir determinats béns o serveis (...).

G. DE LA DEHESA: Comprendre la globalització, 2000.

7. Relaciona:

Augment de l'esperança de vida	Creació de més guarderies
Incorporació de la dona al món laboral	Augment de l'oferta d'activitats de temps lliure
Reducció de la jornada laboral i generalització de les vacances pagades	Creació de residències per a persones grans o dependents
	Creixement del sector turístic
	Aparició de botigues especialitzades en plats preparats

8. Explica el significat de les imatges:



elroto@inicia.es



elroto@inicia.es

9. Vertader o Fals:

- Hi ha necessitats prescindibles o secundàries, com l'educació o la sanitat.
- Als països pobres la major part de la població té accés a l'educació i l'assistència mèdica.
- L'educació i sanitats públiques són iguals per a tothom.
- En la majoria de països, els drets a l'educació i la sanitat els garanteix l'Estat.
- La sanitat i educació públiques les paguem entre tots amb els impostos.

10. A partir del document, respon:

- a) Tipus.
- b) Tema.

c) Classifica, de major a menor, els cinc països amb més mortalitat infantil, i, de menor a major, els cinc amb major mortalitat infantil.

d) Classifica, de major a menor, els cinc països amb més esperança de vida, i, de menor a major, els cinc amb menys.

INDICADORS SOCIALS D'ALGUN PAÏSOS EN 2010

països	taxa de fertilitat (fills per dona)	mortalitat infantil (en ‰)	esperança de vida (en anys)	metges per 1 000 hab.
Afganistan	6,6	165,0	44,6	0,2
Argentina	2,2	14,6	75,7	3,2
Austràlia	1,8	4,9	81,9	2,8
Brasil	1,9	18,3	72,9	1,7
Costa de Marfil	4,9	98,3	58,4	0,1
Espanya	1,4	3,5	81,3	3,5
Estats Units	2,1	6,7	79,6	2,4
Hondures	3,3	25,7	72,6	0,8
Índia	2,7	52,3	64,4	0,6
Japó	1,3	2,5	83,2	2,1
Kuwait	2,2	9,4	77,9	1,8
Marroc	2,4	32,3	71,8	0,6
Namíbia	3,4	31	62,1	0,3
Nepal	2,9	40,8	67,5	0,2
Suècia	1,9	2,3	81,3	3,2
Txad	6,2	124,0	49,2	0,1

e) Classifica, de major a menor, els cinc països amb més metges per cada mil habitants, i, de menor a major, els cinc amb menys.

11. Explica el significat de les tres imatges:

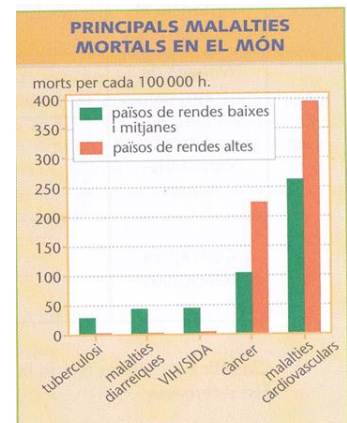


elroto@inicia.es



12. Fixa't en el document i respon:

- a) Tipus.
- b) Tema.
- c) Quines són les principals causes de mort en els països rics?
- d) Quines malalties provoquen morts en els països pobres?



e) A què es deuen les diferències anteriors?

13. Què és el comerç? Explica quins dos tipus de comerç hi ha segons a qui es ven el producte.

14. Quina diferència hi ha entre el comerç interior i el comerç exterior?

15. Les importacions espanyoles en 2012 van arribar a un valor de 253.402'2 milions d'euros i les exportacions es situaren en 222.643'9 milions d'euros. Calcula el saldo de la balança comercial i indica com va ser.

16. A partir del document de baix, respon:

a) Tipus.

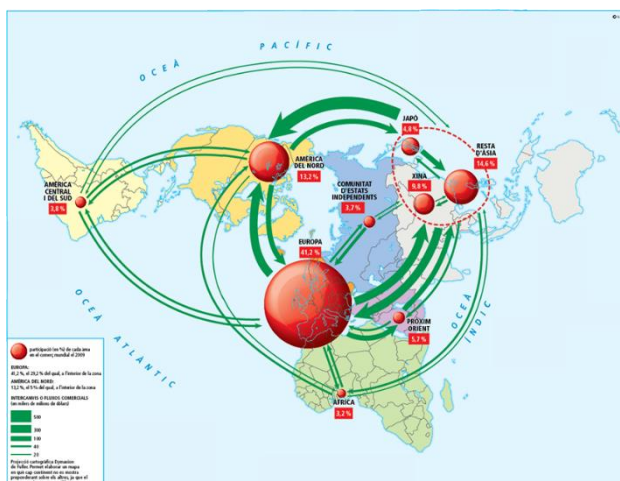
b) Tema.

d) Quines són les tres grans zones del comerç mundial? Quin percentatge suposa cadascuna d'elles?

e) Entre quines zones es produeixen intercanvis comercials superiors als 500.000 milions de dòlars? I entre 300.000 i 500.000?

f) Quines zones del món tenen intercanvis comercials menors?

f) Explica tot el que sàpigues sobre el comerç exterior.



17. A partir del document, respon:

- a) Tipus.
- b) Tema.

b) Què és un bloc comercial?

d) Completa:

- Vint-i-vuit estats europeus formen el bloc comercial de la _____.
- Els països d'Amèrica del Nord s'han unit en el _____.

· A Amèrica Llatina hi ha tres blocs comercials: el _____, i el _____.

· Alguns estats del Magrib han format la _____.

· El bloc comercial del sud-est asiàtic és _____.

· Entre Austràlia i Nova Zelanda existeix _____.



18. Què és el transport? Elabora un llistat amb les característiques del transport en l'actualitat.

19. Digues a quina funció del transport correspon cadascuna de les fotografies:



20. Completa el quadre següent:

NOM	CARACTERÍSTIQUES	AVANTATGES	INCONVENIENTS
Terrestre per carretera			
Terrestre per ferrocarril			
Marítim			
Aeri			

21. Digues quin mitjà de transport utilitzaries en cada cas i per què:

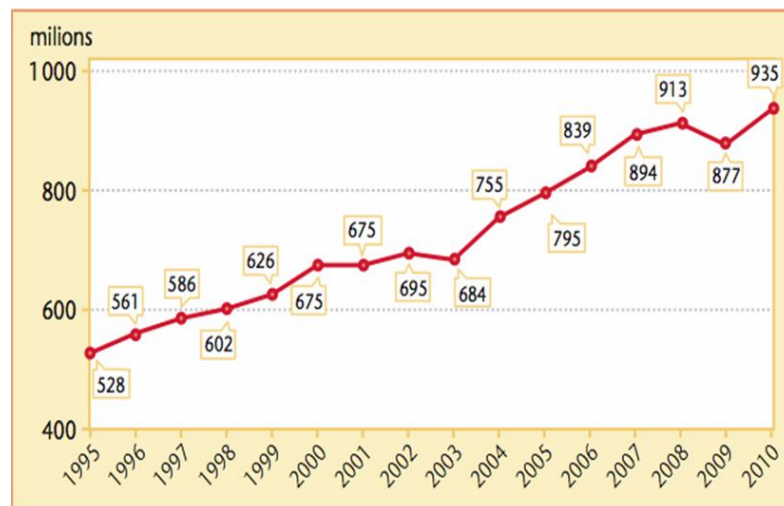
- Portar petroli d'Arabia Saudita a Espanya:
- Portar taronges de València a París:
- Traslladar verdures de l'horta al magatzem de la cooperativa:
- Portar gas d'Algèria a Espanya:
- Viatjar des d'Espanya a Estats Units:
- Portar joies de Sud-Àfrica a València:
- Portar mil tones de blat d'un lloc a altre de Rússia:
- Portar aigua de Viladrau a Barcelona:
- Anar diàriament de casa a l'institut:
- Anar diàriament de casa a la universitat a Barcelona:

22. A partir del document següent, respon:

- Tipus.
- Tema.
- Què ha passat amb el turisme internacional entre 1995 i 2010?

- d) Quines cinc fases pots distingir en la gràfica?
- e) A què es deu el creixement del turisme? Quina importància té per als països receptors?
- f) Quins factors determinen l'existència o no de turisme?
- g) Quins tipus de turisme hi ha segons l'oferta?

EVOLUCIÓ DEL TURISME INTERNACIONAL



23. Digues a quina causa del creixement del turisme correspon cada imatge:

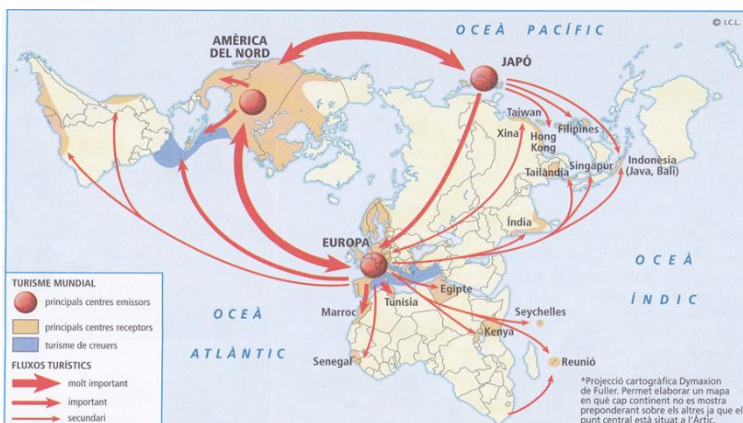


24. Completa el quadre següent:

Desplaçament turístic segons la distància			
Tipus de turisme	Distància al centre emissor	Mitjans de transport	Exemple

25. A partir dels dos documents, respon:

- Tipus de cada document.
- Tema conjunt als dos documents.
- Quines són les principals zones emissores de turistes?
- Quines són les principals regions receptores de turistes? Quines estan especialitzades en creuers?
- Entre quines zones tenen lloc els fluxos turístics molt importants? I els importants?
- Indica quins són els deu països que més turistes van rebre l'any 2012 i en quina regió es troben? Quants turistes sumen entre ells?
- Explica els efectes del turisme en les zones receptores.



PAÍS	MILIONS DE TURISTES
FRANÇA	83
ESTATS UNITS	67
XINA	57'7
ESPANYA	57'7
ITÀLIA	46'4
TURQUIA	35'7
ALEMANYA	30'4
REGNE UNIT	29'3
RÚSSIA	25'7
MALÀISIA	25
ÀUSTRIA	24'1
HONG KONG	23'7
MÈXIC	23'4
UCRAÏNA	23
TAILÀNDIA	22'3

26. Digues quins són els principals mitjans de comunicació i les seves característiques més destacades.

27. Explica el significat de les imatges i elabora un llistat dels problemes dels mitjans de comunicació, explicant cadascun d'ells amb exemples reals o inventats.



elroto.elpais@gmail.com

28. A partir dels dos documents :

- Amb les dades de la taula, confecciona una gràfica amb el nombre total de turistes que arribaren a Catalunya
- Quin tipus de document és el segon?
- Quin és el tema comú a les dues gràfiques i el mapa?
- Quines són les regions turístiques amb una densitat alta? Quin tipus de turisme es fa en cadascun d'aquests llocs?

f) Posa tres exemples de llocs que ofereixen turisme cultural, tres de turisme de neu i tres de turisme de parcs temàtics.

h) Explica tot el que sàpigues sobre el sector terciari a Espanya i a Catalunya.

Llegada de turistas⁽¹⁾ internacionales según país de residencia

Octubre 2017	Datos mensuales		Datos acumulados	
	Valor absoluto	Variación anual	Valor absoluto	Variación anual
TOTAL	7.265.492	1,8	73.403.289	9,2
Alemania	1.220.053	-4,7	10.812.926	5,9
Bélgica	197.066	15,4	2.218.171	7,1
Francia	838.200	-10,2	10.161.160	0,4
Irlanda	180.041	-3,9	1.868.996	13,9
Italia	303.046	3,5	3.707.116	6,8
Países Bajos	358.207	17,8	3.372.055	9,9
Portugal	151.873	-12,8	1.851.858	5,5
Reino Unido	1.662.610	0,5	17.052.671	7,1
Suiza	247.747	17,1	1.862.479	23,1
Rusia	80.739	3,5	1.042.715	13,6
Países nórdicos	586.503	8,9	5.023.675	15,2
Resto de Europa	475.808	0,6	4.936.557	11,9
Estados Unidos	244.892	31,8	2.364.716	33,9
Resto de América	313.166	16,1	2.835.852	26,8
Resto del mundo	405.541	5,9	4.292.342	14,2

(1) No incluye viajeros en tránsito ni visitantes de un solo día sin pernoctación (excursionistas).

REGIONES TURÍSTICAS ESPAÑOLAS



EXERCICI DE SINTESI

Vocabulari: sector terciari, comerç, bloc comercial, transport, intermodalitat, turisme.

Explica la diferència entre:

- Servei públic i servei privat.
- Terciari banal, terciari clàssic i terciari superior.
- Comerç interior i comerç exterior.
- Comerç majorista i comerç minorista.
- Importacions i exportacions.
- Balança comercial i balança de pagaments.
- Turisme proper, de mitjana distància i de llarga distància.
- Mitjà de transport i mitjà de comunicació.